

Fuerzas invisibles

Lección: ¿Cómo podrías ganarle a los adultos en un juego de tirar la cuerda?

Nombre: _____





Fecha: _____

Evaluación

1. Pon una "X" para indicar cuál de estas acciones es un "jalón" y cuál es un "empujón"

Acción	Jalón	Empujón
presionar		
lanzar		
remolcar		
pisotear		
arrancar		

2. Dibuja una flecha para indicar las fuerzas en estas acciones (jalones y empujones).

	
	 <p>La mano está a punto de presionar la punta de la cuchara. Un brócoli está en el extremo opuesto.</p>

3. ¿Por qué un globo lleno de agua se revienta cuando lo pisas pero no sucede lo mismo cuando pisas una sandía? Dibuja flechas que representen la fuerzas en estos dibujos:

 <p>(Asume que este es el momento justo antes de que reviente)</p>	
---	--

4. ¿Qué tenía de especial la última liga que le agregaron a la sandía para hacer que explotara?
