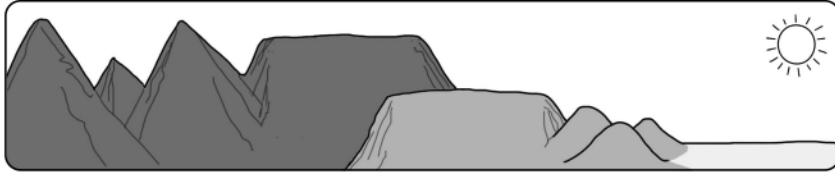



Explorador Tejano


Nombre: _____


LEYENDA

Los números en el mapa indican lugares en dónde puede estar el Callejón de Inundaciones Repentinas.





 = Montañas altas y montañas con puntas planas


 = Montañas más chicas con puntas planas y colinas


 = Llanuras bajas

 = Agua

 = Acantilados y laderas rocosas

 = Suelo arcilloso

 = Ciudad y pavimento

 = Tormentas gigantescas

